

10までの たしざん ぶんしょうもんだい(1)

- 1 あめが 4こ あります。2こ ふえると あめは、ぜんぶで なんこに なりましたか。



しき

こたえ _____ こ

- 2 いちごが 5こ あります。3こ ふえると いちごは、ぜんぶで なんこに なりましたか。




しき

こたえ _____ こ

- 3 あおい さかなが 3ひき と あかい さかなが 2ひき います。

さかなは ぜんぶで なんびきいますか。



しき

こたえ _____ ひき

- 4 あかいとりが5ひき います。あおいとりが3ひき います。

とりは、ぜんぶで なんびきいますか。

しき

こたえ _____ ひき

10 までの たしざん ぶんしょうもんだい(2)

1 りんごが 2こ あります。あとから 4こ ふえました。

りんごは あわせて なんこ ありますか。



しき

こたえ こ

2 ちゅうしゃじょうに くるまが 5だい とまっています。

あとから 3だい きました。ぜんぶで なんだい ですか。



しき

こたえ だい

3 あめが 5こ あります。あとから 2こ もらいました。

あめは あわせて なんこ ですか。

しき

こたえ こ

4 こどもが 6にん います。そこに 3にん きました。

こどもは みんなで なんにん になりましたか。

しき

こたえ にん

10までの たしざん ぶんしょうもんだい(3)

1 ボールが 2こ あります。 1こ もってきました。

ボールは ぜんぶで なんこ ありますか。




しき

こたえ こ

2 どんぐりを 5こ ひろいました。ともだちは 4こ ひろいました。

あわせて なんこに なりましたか。



しき

こたえ こ

3 きのう なわとびを 1かい とびました。

きょうは 3かい とびました。あわせて なんかい とびましたか。

しき

こたえ かい

4 こどもが たいくかんで 4にん あそんでいます。

さらに 4にん きました。みんなで なんにんに なりましたか。

しき

こたえ にん

10までの たしざん ぶんしょうもんだい(4)

1 えんぴつが 3ほん あります。あたらしく 2ほん かってもらいました。

ぜんぶで なんほんに なりますか。



しき

こたえ ほん

2 こうていで 4にんの こどもたちが おにごっこを しています。

3にんが あそびに はいりました。ぜんぶで なんにんに なりましたか。



しき

こたえ にん

3 りんごが 7こ あります。ともだちから 1こ もらいました。

ぜんぶで なんこに なりましたか。

しき

こたえ こ

4 ぼくは ぶどうを 5つぶ たべました。おにいさんは 4つぶ たべました。

あわせて なんつぶ たべましたか。


しき

こたえ つぶ

10までの たしざん ぶんしょうもんだい(5)

1 いぬを 3びき かっていました。おかあさんが 1びき つれてきました。

ぜんぶで いぬは なんびき いるでしょうか。



しき

こたえ

ひき

2 かえるが 3びき います。いけから 6びき ききました。

みんなで なんびき になりましたか。



しき

こたえ

ひき

3 ぬいぐるみを 2こ もっています。いもうとは 1こ もっています。

あわせて なんこ ありますか。

しき

こたえ

こ

4 じてんしゃ おきばに じてんしゃが 2だい とまっています。

そこに 4だい きました。あわせて なんだいに になりましたか。

しき

こたえ

だい